

SEGUNDO GRADO -Nivel 2

## OLIMPIADA CORDOBESA DE MATEMÁTICA 2025 CERTAMEN ESCOLAR

***Datos de los integrantes del equipo***

NOMBRE y APELLIDO


**1-**

LEO Y ANTONELA QUIEREN HACER UNA CONSTRUCCIÓN CON 82 CUBOS.

TIENEN:

- 25 CUBOS ROJOS,
- 30 CUBOS AZULES,
- 15 CUBOS VERDES.

¿LE SOBRAN O LE FALTAN CUBOS PARA HACER LA CONSTRUCCIÓN? ¿CUÁNTOS?



**2-**

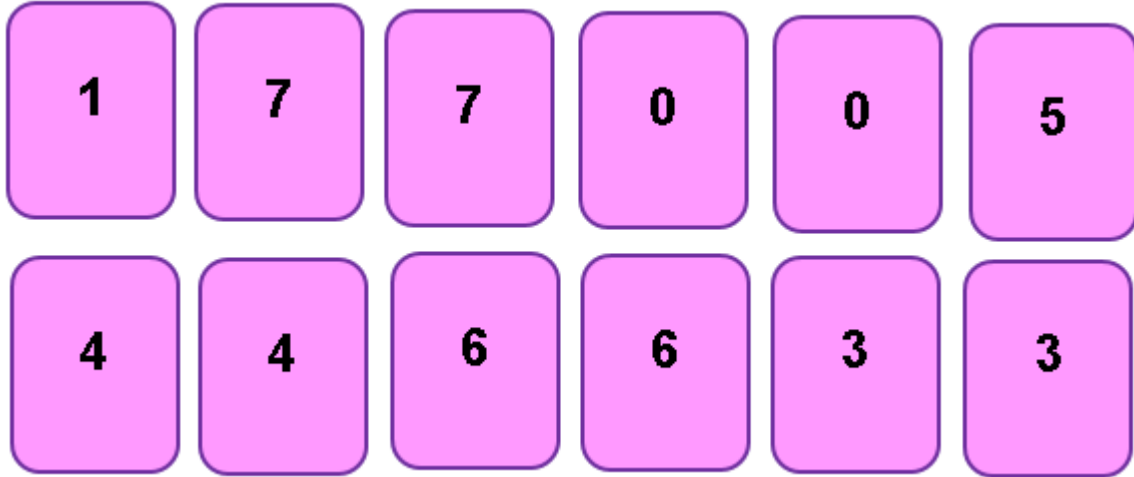
LA MAESTRA DE 2° GRADO TIENE UNA CARTULINA CON FORMA DE CUADRADO. NECESITA HACER SOLO DOS CORTES PARA OBTENER UN RECTÁNGULO Y DOS TRIÁNGULOS.

MARQUEN LOS CORTES EN EL DIBUJO.

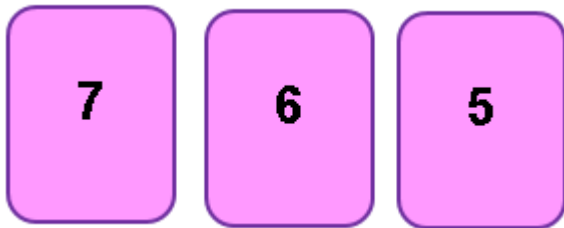


3-

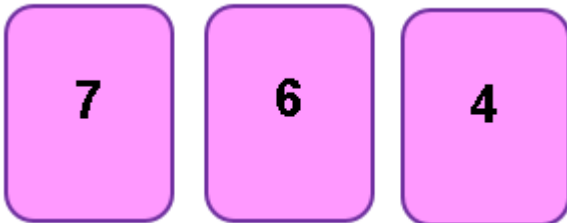
CELESTE, PABLO Y TOMÁS JUEGAN A FORMAR NÚMEROS CON CARTAS.  
EL QUE FORMA EL NÚMERO MÁS GRANDE GANA.  
EN LA MESA QUEDAN ESTAS CARTAS:



CELESTE LEVANTÓ TRES CARTAS Y FORMÓ ESTE NÚMERO



A SU TURNO, PABLO FORMÓ:



¿PUEDE GANARLE TOMÁS A CELESTE CON LAS CARTAS QUE QUEDAN? ¿POR QUÉ?