

PRIMER GRADO - NIVEL 1

OLIMPIADA CORDOBESA DE MATEMÁTICA 2025
CERTAMEN ESCOLAR

Datos de los integrantes del equipo

NOMBRE Y APELLIDO

1-

ANA QUIERE HACER UNA CONSTRUCCIÓN CON 32 CUBOS.

TIENE:

- 8 CUBOS ROJOS,
- 4 CUBOS AZULES,
- 10 CUBOS VERDES.

¿LE ALCANZAN LOS CUBOS QUE TIENE? ¿POR QUÉ?

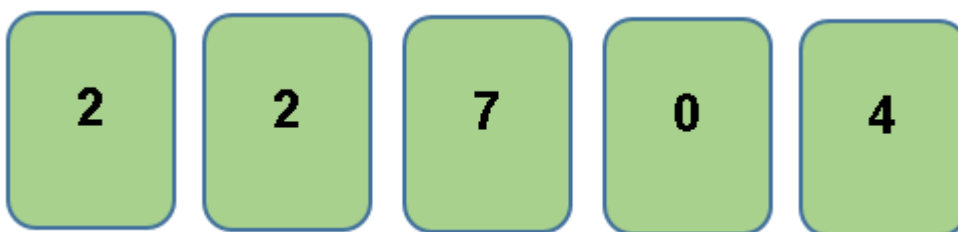


2-

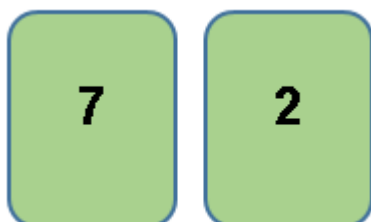
MATÍAS Y LUCÍA JUEGAN A FORMAR NÚMEROS CON CARTAS.

EL QUE FORMA EL NÚMERO MÁS GRANDE GANA.

EN LA MESA QUEDAN ESTAS CARTAS:



MATÍAS LEVANTÓ DOS CARTAS Y FORMÓ ESTE NÚMERO:

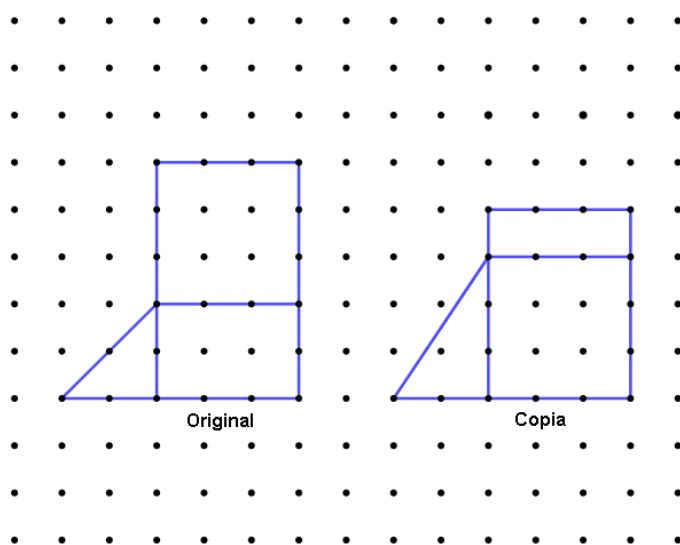


¿LUCÍA PUEDE GANARLE A MATÍAS CON LAS CARTAS QUE QUEDAN? ¿POR QUÉ?

3-

TEO Y MARÍA COPIARON UNA FIGURA.

EN EL DIBUJO PUEDEN VER LA ORIGINAL Y LA COPIA.



¿POR QUÉ NO LES QUEDÓ IGUAL LA COPIA?

AHORA, COPIEN EN ESTA HOJA LA FIGURA ORIGINAL.

